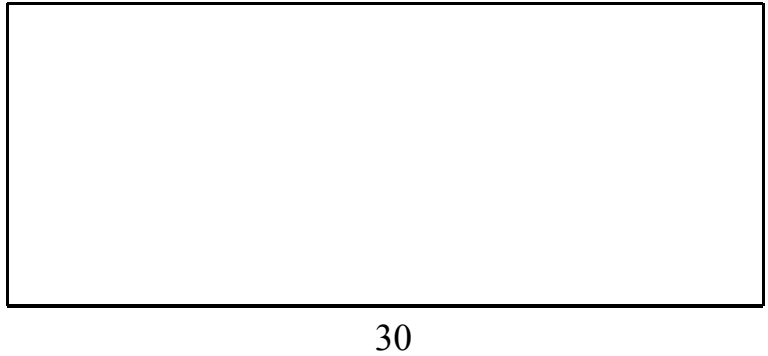
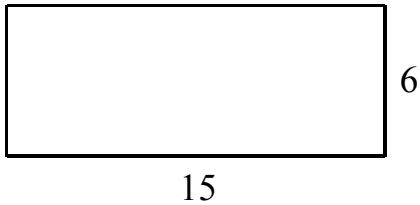


Exercice :

Pour chaque situation, le rectangle de droite est un agrandissement ou une réduction du rectangle de gauche. Calcule la longueur ou la largeur manquante du rectangle de droite.

Attention : l'unité de longueur n'est pas le centimètre et est différente pour chaque situation.

Situation 1 :




Explique ce que tu as fait :

.....

.....

Situation 2 :

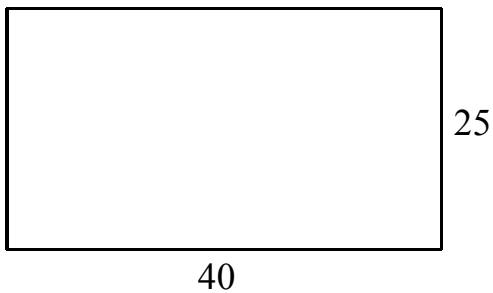


Explique ce que tu as fait :

.....

.....

Situation 3 :



Explique ce que tu as fait :

.....

.....